

Examenul de bacalaureat național 2015
Proba E. d)
Geografie

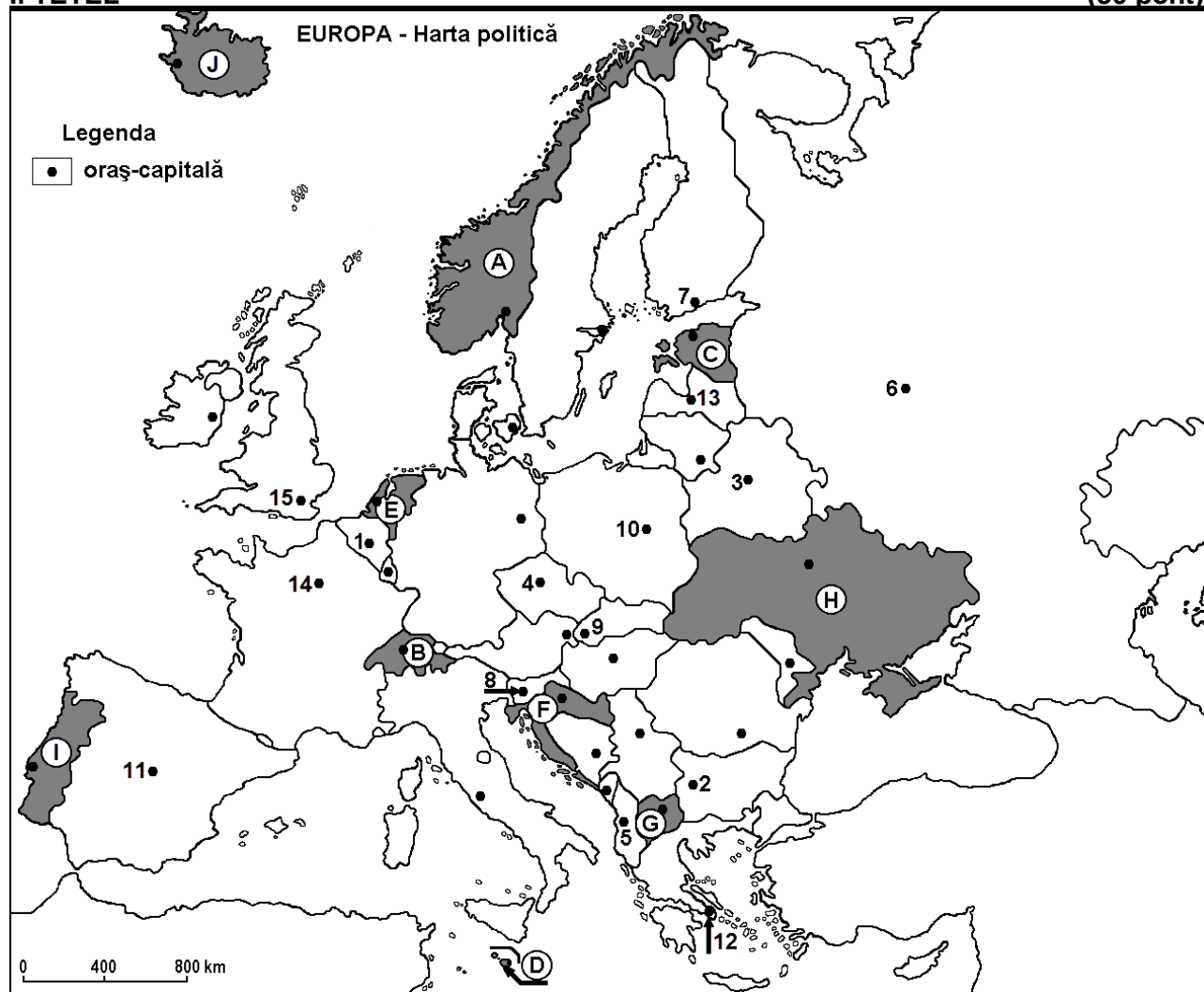
Model

Profilul umanist din filiera teoretică, profilul servicii din filiera tehnologică și toate profilurile și specializările din filiera vocațională, cu excepția profilului militar

- Toate subiectele sunt obligatorii. Se acordă 10 puncte din oficiu.
- Timpul de lucru efectiv este de 3 ore.

I. TÉTEL

(30 pont)



A fenti térkép az I tétel A – D pontjaira vonatkozik. A térképen az országokat betűk, a fővárosokat számok jelölik.

A. Nevezzétek meg:

1. a térképen az I betűvel jelölt országot;
2. a térképen a 15-ös számmal jelölt fővárost.

4 pont

B. Írjátok a vizsgalapra az alábbi mondatokat kiegészítő helyes válaszokat:

1. Prágát a térképen a ... szám jelöli.
2. A térképen a 9-es számmal jelölt fővároson áthaladó folyam neve ...
3. A térképen a B betűvel jelölt ország neve ...

6 pont

C. Írjátok a vizsgalapra a helyes válaszok betűjelét:

1. A mediterrán éghajlat jellemzi a következő számmal jelölt fővárost a térképen:
a. 1 b. 6 c. 12 d. 14 **2 pont**
2. A térképen a 3-as számmal jelölt főváros neve:
a. Kijev b. Minszk c. Varsó d. Vilnius **2 pont**
3. A térképen a D betűvel jelölt ország neve:
a. Andorra b. Ciprus c. Málta d. Monaco **2 pont**
4. Kijárata van a Balti-tengerre a következő betűvel jelölt országnak:
a. A b. C c. E d. F **2 pont**
5. A Szajna által átszelt főváros száma a térképen:
a. 10 b. 11 c. 14 d. 15 **2 pont**

D. Írjatok három különbséget a térképen a H és J betűkkel jelölt országok **éghajlata** között.

Megjegyzés 1: A különbségek a következő éghajlati elemek bármelyikére vonatkozhatnak: éghajlati tényezők, éghajlati típus, évi/nyári/téli középhőmérsékletek, hőmérsékleti amplitudó, évi/nyári/téli átlagos csapadék, gyakori szelek.

Megjegyzés 2: A teljes pontszám csak abban az esetben adható meg, ha a különbségek összehasonlítóképpen és nem külön-külön vannak leírva.

6 pont

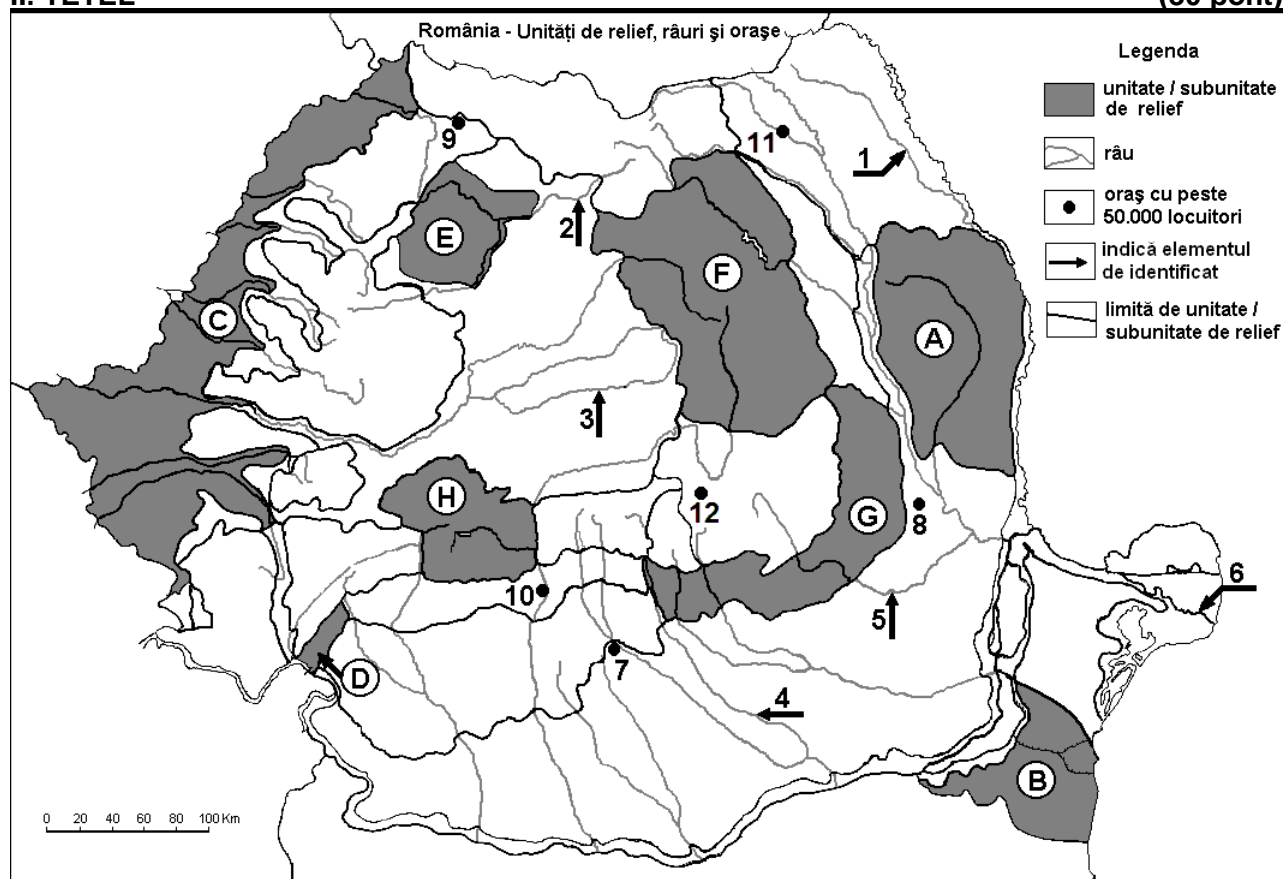
E. Írjatok egy okot:

1. amely kiváltja a népesség mozgását Európa különböző országai vagy részei között.
2. amiért az Alpokban sok a glaciális eredetű tó.

4 pont

II. TÉTEL

**4 pont
(30 pont)**



A fenti térkép a II tétel A – D pontjaira vonatkozik. A térképen a domborzati egységeket betűk, a folyókat 1 – 6 -ig, a városokat 7 – 12 -ig a számok jelölik.

A. Nevezzétek meg:

1. a térképen a 12-es számmal jelölt várost;
2. a térképen az 5-ös számmal jelölt folyót.

4 pont

B. Írjatok a vizsgalapra az alábbi mondatokat kiegészítő helyes válaszokat:

1. A legnépesebb város neve, amelyen áthalad a 4-es számmal jelölt folyó ...
2. A térképen a 6-os számmal jelölt dunai ág neve ...
3. A térképen a D betűvel jelölt tájegység neve ...

6 pont

C. Írjátok a vizsgalapra a helyes válaszok betűjelét:

1. Egy fontos személygépkocsi gyár található a következő számmal jelölt város közelében:

a. 7 b. 8 c. 9 d. 12 2 pont

2. Gleccsertavak jöttek létre a következő betűvel jelölt domborzati egységben:

a. D b. E c. G d. H 2 pont

3. A Jijia-alföldjén áthaladó folyó száma a térképen:

a. 1 b. 2 c. 4 d. 5 2 pont

4. A térképen a 3-as számmal jelölt folyó neve:

a. Maros (Mureș) b. Olt
c. Nagy –Küküllő (Târnava Mare) d. Kis-Küküllő (Târnava Mică) 2 pont

5. A térképen a 10-es számmal jelölt város neve:

a. Petrozsény (Petroșani) b. Râmnicu Vâlcea c. Slatina d. Târgu Jiu 2 pont

D. Írjátok három különbséget a térképen az F és G betűkkel jelölt tájegységek **domborzata** között.

Megjegyzés 1: A különbségek a domborzat következő jellemzőire vonatkozhatnak: kialakulási mód, közzetani felépítés, tengerszint feletti magasságok, tagoltság, domborzati típusok, a hegységek és a fontosabb völgyek iránya, a medencék elhelyezkedése, más domborzati jellemzők.

Megjegyzés 2: A teljes pontszámcsak abban az esetben adható meg, ha a különbségek összehasonlításképpen és nem külön-külön vannak leírva.

6 pont

E. Írjátok egy okot:

1. az erdők hiányára az alpesi övezetben;
2. amiért a Szubkárpátokban gyakoriak a földcsuszamlások.

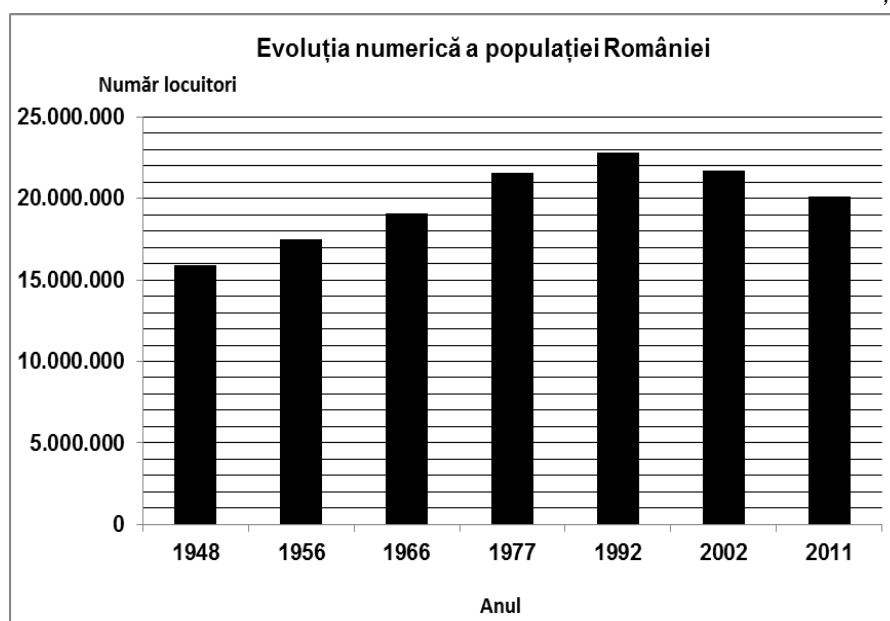
4 pont

III. TÉTEL

(30 pont)

Az alábbi grafikon a III tétel A - B pontjaira vonatkozik és Románia lakosságának változását ábrázolja 1948 - 2011 között.

Forrás: Institutul Național de Statistică



A. Írjátok le:

1. Románia lakosságszámának legnagyobb értékét és az évet amikor jellemző volt;
2. Az első év (a grafikon alapján), amikor Romániában a lakosság száma meghaladta a 20 milliót;
3. Romániának a lakosságszámát 2011-ben.

4 pont

- B. 1.** Számítsátok ki mennyivel növekedett Románia lakossága 1948 – 2002 között.
2. Számítsátok ki mennyivel csökkent Románia lakossága 1992 - 2011 között.
3. Írjátok egy okot, amiért Románia lakossága 1992 - 2011 között csökkent.

6 pont

C. Jellemezzétek Nagy Britannia és Észak-Írország Egyesült Királyságát és írjátok le:

1. három domborzati egységének a nevét;
2. egy szomszédos tengerének a nevét;
3. három városának a nevét;
4. két altalajkincsét, amelyeket kitermelnek;
5. jellegzetes éghajlatát.

10 pont

D. Az alábbi táblázatban három Európai Unió ország 2009-es korcsoportok szerinti népesedésszerkezete látható, százalékos részarányban kifejezve.

Ország	0 –14 év (%)	15 – 64 év (%)	65 év fölött (%)
Belgium	15,9	66,1	18
Franciaország	18,5	64,7	16,8
Románia	14,8	70,4	14,8

III. D. Magyarázzátok meg:

1. a 0 és 14 év közötti lakosság viszonylag alacsony részarányát Romániában.
2. a 65 év feletti lakosság magas részarányát Belgiumban.
3. a 0 és 14 év közötti lakosság magasabb részarányát Franciaországban, összehasonlítva a táblázatban szereplő többi országgal.

6 pont

E. 1. Az alábbi táblázat a mezőgazdasági területek és az erdők részarányát mutatja Ausztriában és Hollandiában, 2012-ben.

Ország	Mezőgazdasági terület	Erdő
Ausztria	18%	48%
Hollandia	23%	13%

Forrás: LUCAS 2012

2 pont

- 2.** Ukrajna területe 603.500 km², 2008 július 1-én a lakosság száma 46.200.000 volt. Számítsátok ki a lakosság sűrűségét!

2 pont