

Examenul de bacalaureat național 2018
Proba E. d)
Geografie

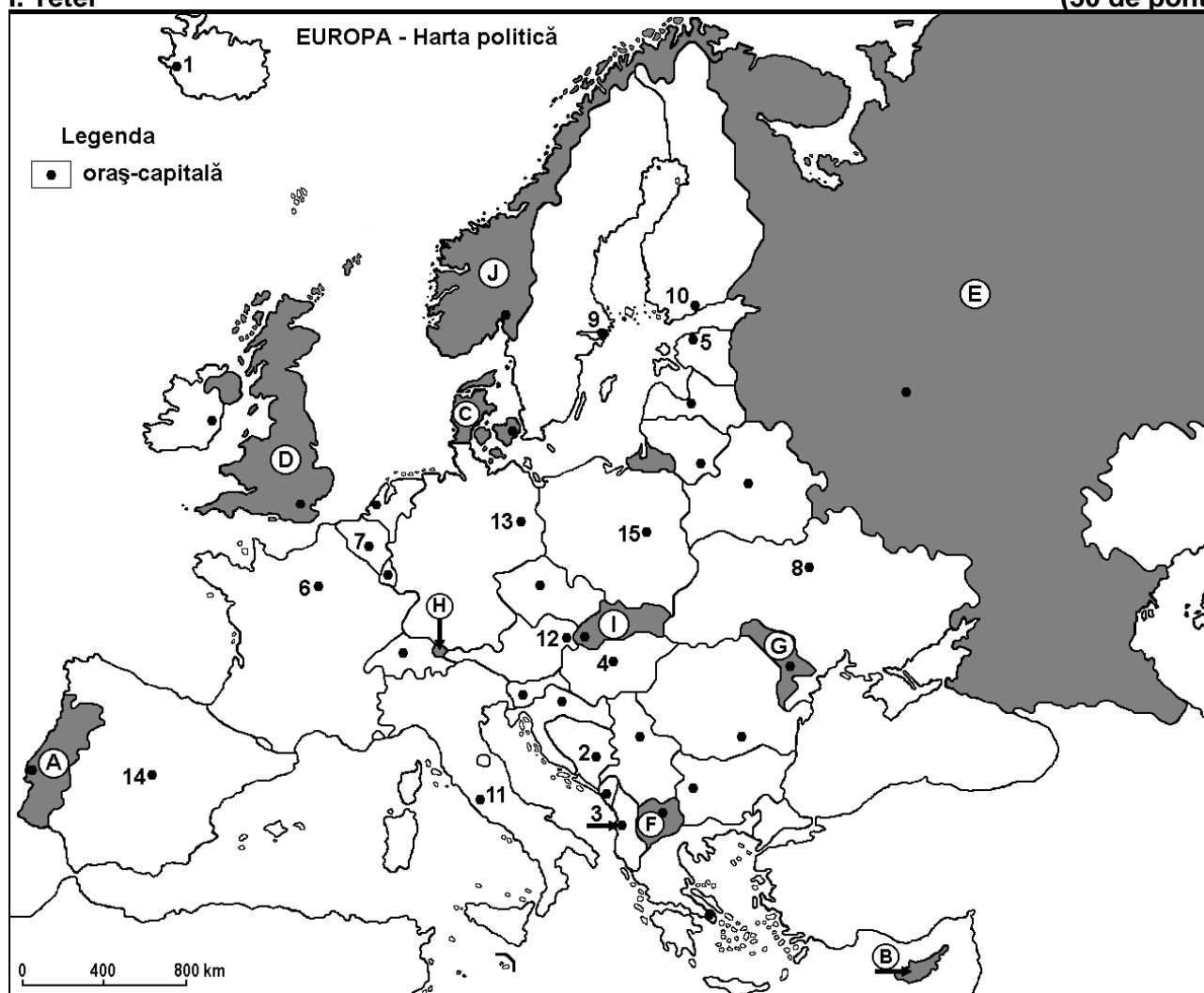
Varianta 9

Profilul umanist din filiera teoretică, profilul servicii din filiera tehnologică și toate profilurile și specializările din filiera vocațională, cu excepția profilului militar

- **Minden tétel kötelező. 10 pont hivatalból.**
- **Munkaidő 3 óra.**

I. Tétel

(30 de pont)



A fenti térkép az I. Tétel A – D pontjaira vonatkozik. A térképen az országokat betűk, a fővárosokat számok jelölik.

A. Nevezzétek meg:

1. a térképen az **A** betűvel jelölt országot;
2. a térképen **6**-os számmal jelölt fővárost.

4 pont

B. Írjátok a vizsgalapra az alábbi mondatokat kiegészítő helyes választ:

1. Nicosia város, annak az országnak a fővárosa amelyet a térképen abetű jelöl.
2. A térképen **C** betűvel jelölt ország neve ...
3. Brüsszel(Bruxelles) fővárost a térképen a ... szám jelöli.

6 pont

C. Írjátok a vizsgalapra a helyes válasz betűjelét az alábbi kijelentésekre vonatkozóan:

1. A térképen **3**-as számmal jelölt főváros neve:

a. Belgrád

b. Szarajevo

c. Tirana

d. Zágráb

2 pont

2. Kősenet, kőolajat, földgázt és vasércet termelnek ki, abban az országban amelyet a térképen az alábbi betű jelöl:

- a. B b. E c. G d. H 2 pont

3. A térképen a H betűvel jelölt ország neve:

- a. Andora b. Liechtenstein c. Luxemburg d. Monaco 2 pont

4. A Dnyeper folyó áthalad, a térképen a ... számmal jelölt fővároson.

- a. 2 b. 4 c. 8 d. 15 2 pont

5. A Kárpátok, annak az országnak a területén is megtalálhatók, amelyet a térképen az alábbi betű jelöl :

- a. E b. F c. G d. I 2 pont

D. Írjatok három különbséget a térképen a G és J betűkkel jelölt országok éghajlata között.

1. **Megjegyzés:** A különbségek a következő **éghajlati elemek** bármelyikére vonatkozhatnak: éghajlati tényezők, éghajlati típus, évi/nyári/téli középhőmérsékletek, hőmérsékleti amplitudó, évi/nyári/téli átlagos csapadék, gyakori szelek.

2. **Megjegyzés:** A teljes pontszám csak abban az esetben adható meg, ha a különbségeket összehasonlítóképpen és nem külön-külön írjátok le. **6 pont**

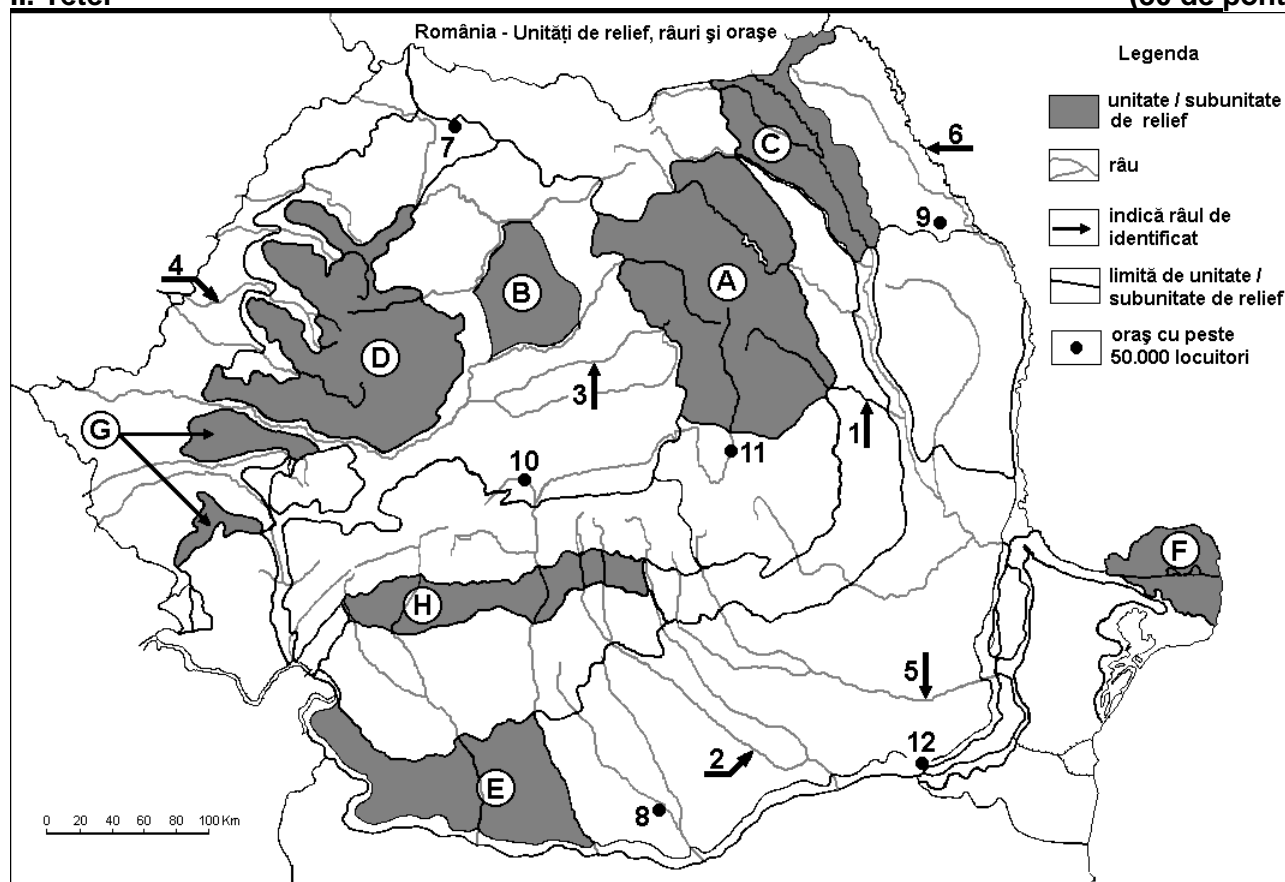
E. 1. Magyarázzátok meg, hogy miért rövidek a Skandináv-félsziget folyóvizei.

2. Írjatok egy okot, amiért a hegyvidéki térségben a népsűrűség értéke alacsony.

4 pont

II. Tétel

(30 de pont)



A fenti térkép a II. Tétel A – D pontjaira vonatkozik. A térképen a domborzati egységeket betűk, a folyókat 1-től 6-ig és a városokat 7-től 12-ig számok jelölik.

A. Nevezzétek meg:

1. a térképen 9-es számmal jelölt várost;
2. a térképen 5-es számmal jelölt folyót;

4 pont

B. Írjátok a vizsgalapra az alábbi mondatokat kiegészítő helyes válaszokat:

1. A térképen a 2-es számmal jelölt folyó neve ...

2. A térképen Alexandria várost a szám jelöli.
3. A térképen a 10-es számmal jelölt város neve ...

6 pont

C. Írjátok a vizsgalapra a helyes válasz betűjelét az alábbi kijelentésekre vonatkozóan:

1. Mőllikus talajok(csernoziom) nagy területeken alakultak ki, a térképen az alábbi betűvel jelölt domborzati alegységben:

a. A b. D c. E d. H 2 pont

2. Földgázt (metán gáz) termelenek ki, a térképen az alábbi betűvel jelölt domborzati alegységben:

a. B b. C c. D d. F 2 pont

3. A térképen 11-es számmal jelölt város neve:

a. Brassó b. Kovászna c. Sepsiszentgyörgy d. Csíkszereda 2 pont

4. A térképen 3-as számmal jelölt folyó neve:

a. Nagy-Szamos b. Kis-Szamos c. Nagy-Küküllő d. Kis-Küküllő 2 pont

5. Vulkanikus domborzat(vulkáni kúpok és kráterek) található, a térképen az alábbi betűvel jelölt domborzati egységben:

a. A b. B c. C d. H 2 pont

D. Írjátok három különbséget a térképen a D és H betűkkel jelölt tájegységek **domborzata** között.

1. **Megjegyzés:** A különbségek a domborzat következő jellemzőire vonatkozhatnak: kialakulási mód, közettani felépítés, tengerszint feletti magasságok, tagoltság, domborzati típusok, a vonulatok és a fontosabb völgyek iránya, a medencék elhelyezkedése, más domborzati jellemzők.

2. **Megjegyzés:** A teljes pontszám csak abban az esetben adható meg, ha a különbségeket összehasonlítóképpen és nem külön-külön írjátok le.

6 pont

E. Az alábbi táblázat, Konstanca és Brassó-megye, szántó és erdővel borított területeit (hektár) mutatja be. (Forrás: Országos Statisztikai Hivatal)

Megye	Szántó területek (ha)	Erdők (ha)
Konstanca	484 103	38 258
Brassó	115 739	196 453

1.Írjátok egy okot, amiért a Konstanca-megyében a mezőgazdasági területek nagy területeket foglalnak el.

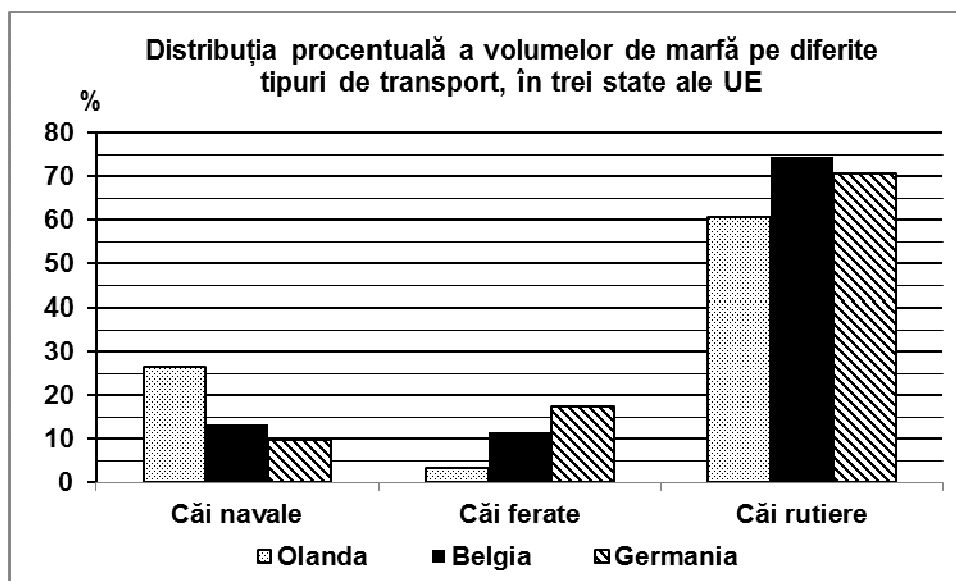
2. Írjátok egy okot, amiért a Brassó-megyében az erdők nagy területeket foglalnak el.

4 pont

III. Tétel

(30 pont)

Az alábbi grafikon a III. Tétel A-B pontjaira vonatkozik és bemutatja a különböző közlekedési típusok áruszállításának százalékos megoszlását, három európai-únios tagállamra vonatkozóan a 2007-es év adatai alapján. (Forrás: <http://www.ccr-zkr.org>)



căi navale-vizi szállítás, căi ferate-vasúti szállítás, căi rutiere-közúti szállítás;

A. Nevezzétek meg:

1. az országot ahol a legmagasabb a vízi áruszállítás és ennek értékét;
2. az országot ahol a legmagasabb a közúti áruszállítás és ennek értékét;

4 pont

- B. 1.** Számítsátok ki Németország, vasúti- és közúti áruszállítása közötti különbséget;
2. Számítsátok ki Hollandia és Belgium, vízi áruszállítása közötti különbséget;
3. Írjátok két kikötőt(tengeri, tengeri-folyami, folyami) Németországból.

6 pont

C. Szerbiára vonatkozóan, írjátok le:

1. két szomszédos, európai-únios tagállam nevét;
2. két szomszédos, **nem** európai-únios tagállam nevét;
3. két domborzat egység nevét;
4. két vízfolyás nevét;
5. két város nevét, a fővároson kívül

10 pont

D. Az alábbi táblázat bemutatja a kivándorlók és a bevándorlók számát, két európai országra vonatkozóan a 2015-ös év adatai alapján:

Ország	Bevándorlók	Kivándorlók
Olaszország	280.078 személy	146.955 személy
Lettország	9.479 személy	20.119 személy

Forrás: Eurostat

1. Számítsátok ki Olaszország migrációs mérlegét.
2. Számítsátok ki Lettország migrációs mérlegét
3. Írjátok egy okot amiért Olaszországban magas a bevándorlás értéke.

6 pont

E. Franciaország évi bortermelése 47 millió hl, míg Románia évi bortermelése 3,75 millió hl, a 2015-ös év adatai alapján:

1. Magyarázzátok meg hogy miért magas Franciaország bortermelése.
2. Írjátok két szőlőtermesztési régiót Romániából.

4 pont